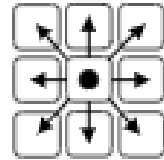


## Po kamyczkach do celu (1)

Pomóż świerszczowi dojść do skrzypiec, prowadząc go tylko po kamyczkach oznaczonych liczbami kolejno od 11 do 20.

Dozwolone są następujące kierunki:




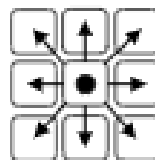
		19	12	14	18	20	16
		15	17	13	11	12	19
18	11	20	14	19	17	13	15
17	16	12	11	16	20	18	14
15	19	13	18	15	11	16	19
13	17	12	14	19	12	20	17
14	20	18	11	17	13		
19	12	16	15	20	14		




# Po kamkach do celu (3)

Pomóż królowi dojść do tronu, prowadząc go tylko po tych kamkach, na których znajdują się liczby nieparzyste.

Dozwolone są następujące kierunki:



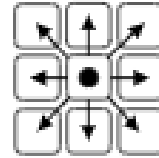
		14	6	12	8	2	10
		18	4	20	16	14	6
15	12	2	10	8	12	18	20
4	11	18	14	16	5	14	8
3	20	12	19	1	8	17	18
18	7	13	16	20	10	6	9
10	2	8	12	4	12		
16	4	20	6	18	14		



# Po kamykach do celu (4)

Pomóż krasnalowi wrzucić list do skrzynki, prowadząc go tylko po tych kamykach, na których znajdują się liczby parzyste.

Dozwolone są następujące kierunki:



	19	5	13	9	17	15	
	16	11	7	1	13	19	
3	15	17	12	5	11	9	1
7	13	8	19	17	15	3	19
5	4	11	3	7	13	15	9
18	13	17	9	14	1	3	7
15	10	3	6	17	20		
11	7	2	19	15	13		



# Ile to dni?

Połącz okres czasu wyrażony słowami z odpowiadającą mu liczbą dni.  
Niektóre liczby zostaną wykorzystane kilka razy. Jednej odpowiedzi brakuje  
– dorysuj kwadrat z właściwą liczbą.

91

366

## Ile to dni?

dwa tygodnie

dwa pierwsze miesiące roku kalendarzowego

cały drugi kwartał

trzy tygodnie

trzy ostatnie miesiące roku kalendarzowego

jeden cały rok przestępny

połowa lutego w roku, który nie jest przestępny

cztery tygodnie

czas od pierwszego do ostatniego dnia jesieni

cały przedostatni miesiąc roku

trzy miesiące: czerwiec, lipiec i sierpień

ostatni kwartał roku

cały kwiecień i jeden tydzień maja

okres od początku roku do końca zimy

14

59

92

21

37

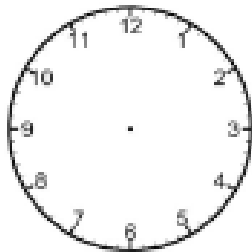
30

79

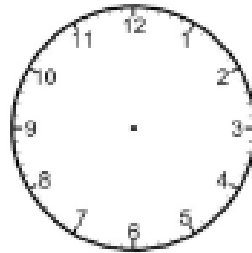
28

# Zegarmistrz

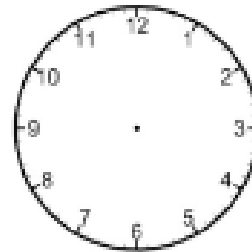
Wyobraź sobie, że jesteś zegarmistrzem i po naprawieniu mechanizmu zegarka musisz jeszcze ustawić wskazówki tak, by pokazywały prawidłową godzinę. A więc do dzieła :)



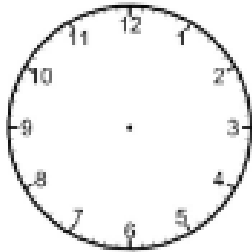
**16.35**



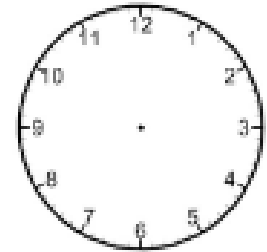
**13.20**



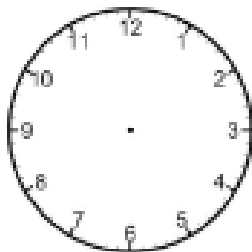
**17.45**



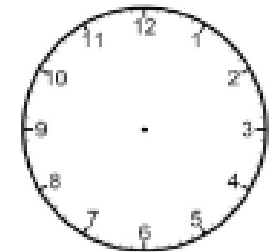
**00.00**



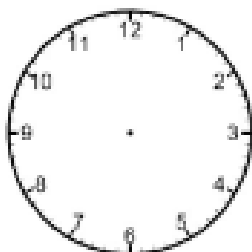
**22.00**



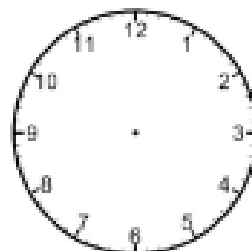
**12.25**



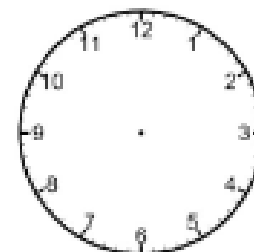
**21.50**



**03.15**



**23.05**



**15.30**